


Jméno, příjmení, třída:



LogiMatik 2019

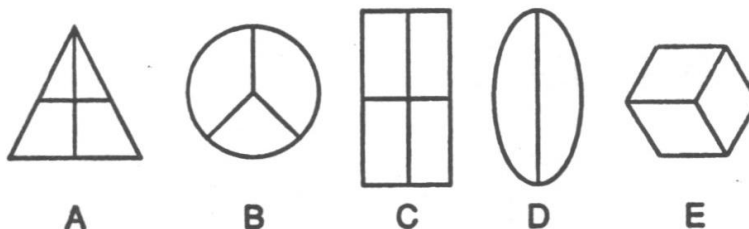
10. kolo – LogIQmatik



Který obrázek nepatří
mezi ostatní?
(2 body)



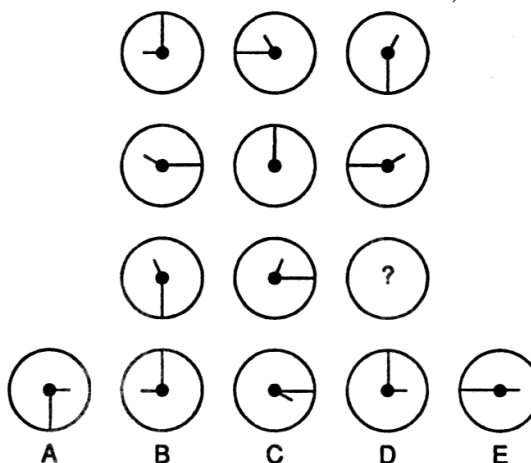
Který obrázek nepatří
mezi ostatní?
(3 body)



Která tři písmena
vyloučíte? (4 body)

M N O
P Q R
S T U

Doplň chybějící hodiny
(5 bodů)



Odevzdej nejpozději v pondělí 10.6.

Úlohy řešte na druhou stranu zadání, v případě potřeby na další (podepsaný!) list A4.